

Олимпиада по географии школьный этап 2022-2023

325.

Задания для 10 класса

Тестовый тур

1. Вторым в истории экспедицией, достигшей Южного географического полюса руководил
 а) Отто Норденшельд; б) Стивен Барроу; в) Роберт Скотт. г) Рауль Амундсен
2. Отрезком наибольшей длины расстояние между городами Москва и Санкт-Петербург показано на карте масштаба
 а) 1:10 000 000 б) 1:25 000 000 в) 1:35 000 000 г) 1:90 000 000
3. Самая большая по площади территория среди перечисленных стран – это
 а) Индия; б) Канада; в) Бразилия; г) Австралия.
4. Какая группа стран не имеет выхода к морю?
 а) Болгария, Румыния; б) Швеция, Финляндия; в) Монголия, Афганистан; г) Турция, Иран.
5. Унитарным государством по форме административно-территориального устройства является
 а) Мексика; б) Бразилия; в) США; г) Франция
6. В результате тектонической деятельности и магматизма на дне Мирового океана образуется (образуются)
 а) шельф; б) материковый склон; в) каньоны; г) срединно-океанические хребты
7. В настоящее время зона разломов земной коры на суше наиболее отчетливо выражена на материках
 а) Австралия и Африка; б) Африка и Евразия; в) Евразия и Южная Америка; г) Южная Америка и Северная Америка.
8. Полезные ископаемые осадочного происхождения приурочены, в основном, к
 а) плитам платформ; б) платформам; в) областям мезозойской складчатости; г) областям новой складчатости.
9. В какой из перечисленных стран в общей численности населения доля горожан наибольшая
 а) Болгария; б) Португалия; в) Эфиопия; г) Германия.
10. Относительно большое количество осадков при их равномерном распределении в течение года характерно для полуострова
 а) Юкатан; б) Малакка; в) Скандинавский; г) Корея.
11. Какой европейский язык до XVI века господствовал только в одной стране, а теперь является государственным и родным для большинства народов крупного региона
 а) немецкий; б) испанский; в) польский; г) итальянский.
12. В каком из высказываний содержится информация о процессе урбанизации
 а) Крупные города образуют зону притяжения, формируя городские агломерации из множества близко расположенных городов и поселков;
 б) Предгорья Северного Кавказа – один из густозаселенных районов с густой сетью крупных сельских поселений;
 в) Численность и плотность населения увеличивается в тех странах и регионах, где наиболее высок естественный прирост населения;
 г) Средняя плотность сельского населения России составляет примерно 2,02 человека на 1 кв.км.
13. Крупные запасы железных руд сосредоточены в
 а) Аргентине, Египте, Кувейте; б) Бразилии, Гвинее, Индии; в) Австрии, Белоруссии, Словакии; г) Италии, Финляндии, Дании.
14. В каком регионе гидроэнергетический потенциал рек наиболее велик
 а) Юго-Западная Азия; б) Латинская Америка; в) Австралия; г) Северная Африка.
15. В пределах системы Великих Американских озер (оз. Верхнее, оз. Гурон, оз. Мичиган, оз. Эри, оз. Онтарио) расположен водопад
 а) Виктория; б) Анхель; в) Ниагарский; г) Игуасу.
16. В какой из перечисленных стран рекреационные ресурсы способствуют развитию международного туризма
 а) Монголия; б) Афганистан; в) Египет; г) Республика Чад.
17. Постиндустриальная структура экономики характерна для
 а) Австралии; б) Судана; в) Камбоджи; г) Танзании.

18. Наибольший объем заготовок древесины приходится на
а) Хабаровский край б) Приморский край; в) Архангельская область; г) Красноярский край.

19. Дешевая электроэнергия сибирских ГЭС используется заводами Братска, Красноярска, Саяногорска для производства

а) меди; б) олова; в) никеля; г) алюминия.

20. Основным фактором размещения топливной промышленности мира является
а) экологический; б) природно-ресурсный; в) транспортный; г) трудовых ресурсов.

21. В каких регионах освоение природных ресурсов стало возможным в эпоху ПТР?

а) Эльзас и Лотарингия; в) Верхняя Силезия и Донбасс;
б) Амазония и север Канады; г) Уэльс и Рур.

22. Основные грузопотоки нефти в страны Западной Европы направлены из стран

а) Латинской Америки; в) побережья Персидского залива;
б) побережья Гвинейского залива; г) Юго-Восточной Азии.

23. В какой из перечисленных стран в структуре производства электроэнергии преобладает ТЭС?

а) Саудовская Аравия; б) Бразилия; в) Швейцария; г) Норвегия.

24. Горнодобывающая промышленность – отрасль международной специализации

а) Франции, Германии, Австрии; в) Японии, Финляндии, Норвегии;
б) Канады, Австралии, ЮАР; г) Бельгии, Нидерландов, Люксембурга.

25. Самыми распространенными электростанциями, вырабатывающими большую часть энергии в мире, являются

а) тепловые; б) атомные; в) геотермальные; г) гидроэлектростанции.

26. Членами какой международной организации являются такие страны, как Австралия, Бруней, Канада, Чили, Сингапур, Малайзия?

а) Азиатско-Тихоокеанского экономического сотрудничества (АТЭС);
б) Организация стран – экспортеров нефти (ОПЕК);
в) Ассоциации государств Юго-Восточной Азии (АСЕАН);
г) Организации Североатлантического договора (НАТО).

27. Выберите две отрасли мирового хозяйства, развивающиеся в конце XX века наиболее быстрыми темпами

а) судостроение; в) производство горно-шахтного оборудования;
б) трубопроводный транспорт; г) производство пластмасс и синтетических смол.

28. Электронное машиностроение - отрасль международной специализации

а) Турции и Пакистана; б) Сирии и Ирака; в) Ирана и Афганистана; г) Малайзии и Республики Корея.

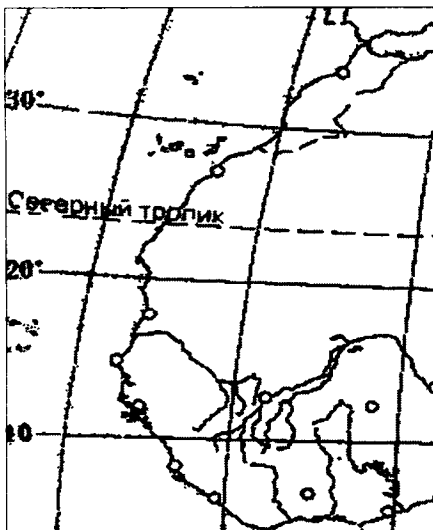
29. Главным источником нефтяного загрязнения Мирового океана является

а) катастрофы судов; в) добыча нефти на шельфе;
б) сброс за борт балластных вод, потери нефти при загрузке; г) естественное просачивание из недр.

30. В число мировых лидеров по производству шерсти входят

а) Франция и Италия; б) Австралия и Новая Зеландия; в) Россия и Украина; г) США и Бразилия.

Аналитический тур

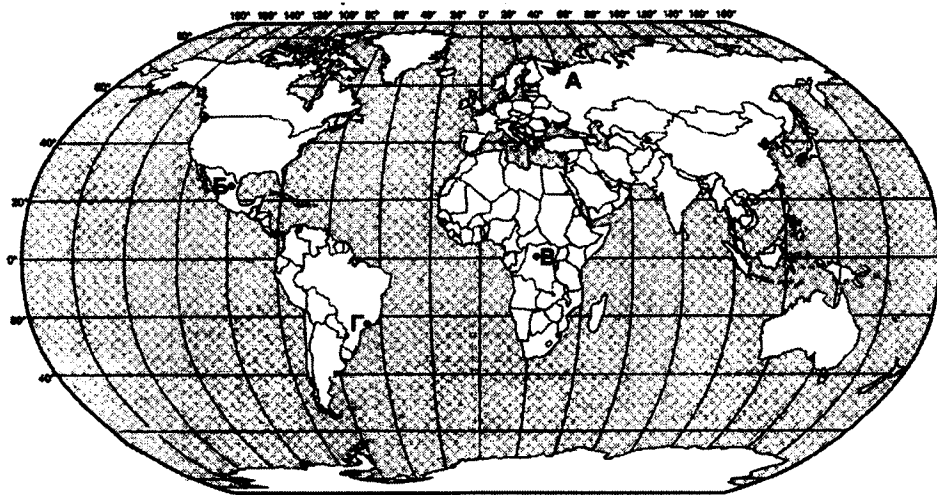


Задание 1.

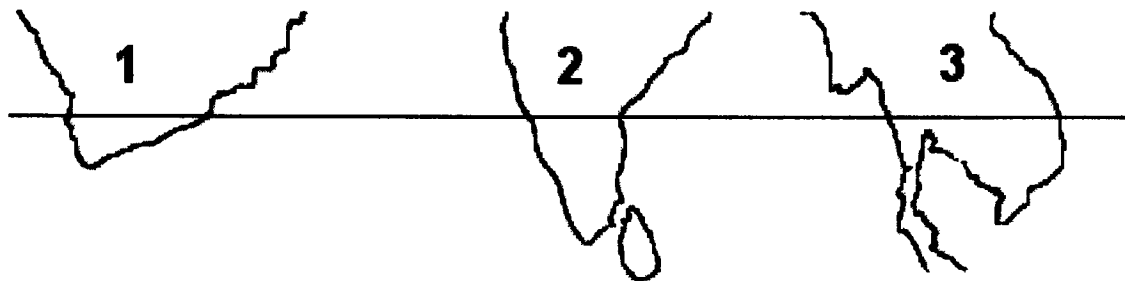
Определите материк, участок которого изображен на фрагменте контурной карты. Многие путешественники огибали побережье по океану. Выберите имена путешественников и первооткрывателей, пересекавших Северный тропик в этом районе в период Великих географических открытий (XV-середина XVII вв.) и укажите цель путешествия: Афанасий Никитин, Абель Тасман, Бартоломеу Диаш, Генри Гудзон, Джон Кабот, Васко да Гама, Виллем Баренц, Семен Дежнев, Фернан Магеллан, Френсис Дрейк, Христофор Колумб.

Задание 2. Четыре группы школьников отправились на весенних каникулах (20-е числа марта) изучать природу в различные регионы мира. Определите, в какие страны мира, обозначенные на карте буквами (А, Б, В, Г) они поехали. Назовите столицы этих государств. Ответьте на вопросы:

- 1) в каком районе (укажите букву) школьники не увидят отбрасываемой тени от предметов?
- 2) в каком районе тень от предметов будет падать на юг?
- 3) в каких районах ночь будет длиться 12 часов?



Задание 3. Вашему вниманию представлен фрагмент контурной карты. Используя карты атласа, определите территории (1-3) одного порядка по очертаниям береговой линии, пересекаемые параллелью 15°.



Ответьте на вопросы:

- 1) Назовите гидрографический объект, омывающий территорию №1 на западе.
- 2) На какой территории, изображенной на фрагменте контурной карты, расположено наибольшее количество стран, пересекаемых параллелью 15°? Назовите эти страны.
- 3) Определите территорию, где Солнце заходит за горизонт позднее всего.

Задание 4. Назовите девять краев России (субъектов Российской Федерации).

Назовите край, где знаменитая тайга занимает 2/3 территории и отличается богатством и разнообразием видов растений и животных. Здесь сходятся северная таежная, южная субтропическая и западная степная типы растительности. Треть всех видов растений относятся к лекарственным, включая женьшень. Как называют эту тайгу? Здесь находится самое большое озеро на всем Дальнем Востоке, как оно называется?

Задание 5. Определите страну по ее описанию.

Эта страна - одна из крупных по площади территории на материке, омывается водами двух океанов; столица - не самый крупный город в стране. Ее недра богаты разнообразными полезными ископаемыми. По добыче алмазов, золота, платины, урана, железных руд эта страна занимает одно из первых мест в мире. Ведущие отрасли хозяйства - горнодобывающая промышленность, черная металлургия, машиностроение, химическая промышленность. Сельское хозяйство достигло высокого уровня развития. Страна располагает самой густой на континенте транспортной сетью. Одним из соседних государств является Намибия.

Олимпиада по географии
Школьный тур 2022-2023 учебный год

10 класс
Тестовый тур

825

1 -	2 +	3 +	4 +	5 +	6 +	7 -	8 +	9 +	10 -
A	A	B	B	Г	Г	A	A	B	B
11 -	12 -	13 +	14 -	15 +	16 +	17 +	18 +	19 +	20 +
A	B	B	A	B	B	A	A	Г	B
21 -	22 +	23 -	24 +	25 +	26 +	27 +	28 +	29 +	30 -
A	B	A	B	A	A	BB	B	B	B

Аналитический тур

21

1	05
2	115. А) Россия (мурманск) столица Москва 2 Б) Мексика Монтеррей. 1 В) Демократическая республика конго - киншаса 2 Г) Бразилия Салвадор - столица Бразилия. 2 1) А - 2) Г 2 3) А - 1
3	
4	
5	